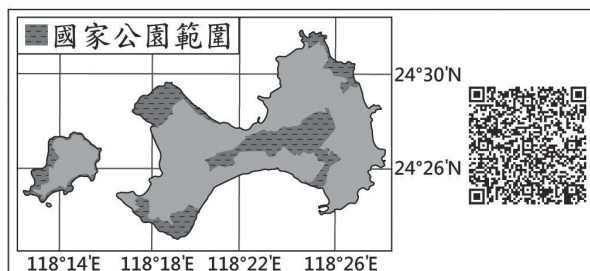


35. QR Code是目前常見的一種二維條碼。利用手機對準QR Code拍照，再搭配解碼軟體，就可以顯示條碼內儲存的訊息。圖(十一)是針對臺灣某國家公園特色所設計的QR Code，將其解碼後，得到的訊息最可能包括下列何者？

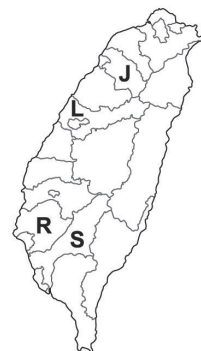
- (A) 雄偉壯麗的峽谷景觀
- (B) 珊瑚礁堆砌的防風牆
- (C) 火山活動形成的噴氣孔
- (D) 傳統的閩南式建築聚落



圖(十一)

56. 十五世紀開始，許多歐洲探險家出海探尋通往亞洲的新航路。圖(二十五)是十五世紀至十八世紀部分歐洲探險家到達地區的示意圖，其標示方式僅依照這些地區的經度位置排列，而未考慮其緯度位置。狄亞士在1487至1488年的探險旅程中到達某洲的最南端，若要在圖中呈現，應標示於何處？

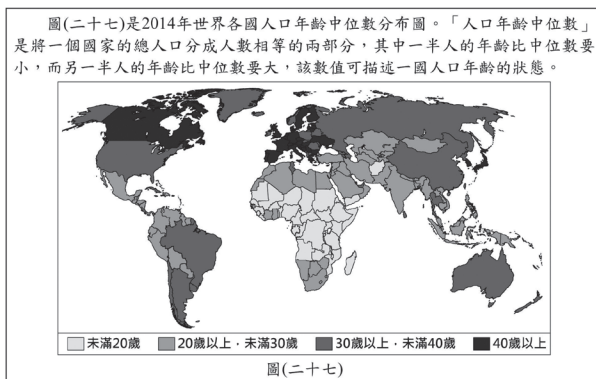
- (A) 甲
- (B) 乙
- (C) 丙
- (D) 丁



圖(二十四)

請閱讀下列敘述後，回答62~63題

圖(二十七)是2014年世界各國人口年齡中位數分布圖。「人口年齡中位數」是將一個國家的總人口分成人數相等的兩部分，其中一半人的年齡比中位數要小，而另一半人的年齡比中位數要大，該數值可描述一國人口年齡的狀態。



62. 圖(二十七)中「人口年齡中位數」未滿20歲的國家，主要分布在某一洲？

- (A) 亞洲
- (B) 歐洲
- (C) 非洲
- (D) 南美洲

63. 圖(二十七)中「人口年齡中位數」屬於■類的國家，最可能具有下列何種特徵？

- (A) 出生率較低
- (B) 平均壽命較低
- (C) 醫療衛生水準較落後
- (D) 人口組成為低金字塔型